



CIDADE JAGUARÃO
INSTRUÇÕES GERAIS

- 1 - Este caderno de prova é constituído por 40 (quarenta) questões objetivas.
- 2 - A prova terá duração máxima de 04 (quatro) horas.
- 3 - Para cada questão, são apresentadas 04 (quatro) alternativas (a – b – c – d).
APENAS UMA delas responde de maneira correta ao enunciado.
- 4 - Após conferir os dados, contidos no campo Identificação do Candidato no Cartão de Resposta, assine no espaço indicado.
- 5 - Marque, com caneta esferográfica azul ou preta de ponta grossa, conforme exemplo abaixo, no Cartão de Resposta – único documento válido para correção eletrônica.

(a) ● (c) (d)
- 6 - Em hipótese alguma, haverá substituição do Cartão de Resposta.
- 7 - Não deixe nenhuma questão sem resposta.
- 8 - O preenchimento do Cartão de Resposta deverá ser feito dentro do tempo previsto para esta prova, ou seja, 04 (quatro) horas.
- 9 - Serão anuladas as questões que tiverem mais de uma alternativa marcada, emendas e/ou rasuras.
- 10 - O candidato só poderá retirar-se da sala de prova após transcorrida 01 (uma) hora do seu início.

BOA PROVA!

CONHECIMENTOS ESPECÍFICOS

1. Considere o seguinte fragmento:

“Quem controla o Leste Europeu comanda o *Heartland*
 Quem controla o *Heartland* comanda a Ilha Mundial
 Quem controla a Ilha Mundial comanda o Mundo.”

(KAPLAN, R.A **Vingança da Geografia**. Rio de Janeiro: Elsevier, 2013, p.76)

A citação faz referência a qual autor da questão geopolítica mundial?

- a) Ratzel.
- b) Kjellén.
- c) Haushofer.
- d) Mackhinder.

2. Em 2014, o Brasil foi sede da Copa do Mundo da FIFA, cuja transmissão ocorreu para mais de 200 países. O jogo de abertura ocorreu no dia 12 de junho, às 17 horas (Hora oficial de Brasília – três fusos a oeste de Greenwich).

Sendo assim, assinale a alternativa CORRETA que apresenta, respectivamente, os horários em que moradores de Osaka (34°41' N e 135°30' E), San Diego (32°43' N e 117°09' W) e Munique (48°08'N e 11°34'E) assistiram ao jogo.

- a) 4 horas da manhã do dia 13 de junho de 2014, 9 horas da manhã do dia 12 de junho de 2014 e 19 horas do dia 12 de junho de 2014.
- b) 5 horas da manhã do dia 12 de junho de 2014, 12 horas do dia 12 de junho de 2014 e 22 horas do dia 12 de junho de 2014.
- c) 5 horas da manhã do dia 12 de junho de 2014, 12 horas da manhã do dia 13 de junho de 2014 e 12 horas do dia 12 de junho de 2014.
- d) 5 horas da manhã do dia 13 de junho de 2014, 12 horas do dia 12 de junho de 2014 e 21 horas do dia 12 de junho de 2014.

3. Quando se trabalha a questão climatobotânica, aborda-se um conceito importante denominado ecótono.

De acordo com a ilustração a seguir, quais letras representariam uma área de ecótono?

A	B	C	D	E	F	G
---	---	---	---	---	---	---

- a) A, B, C, D e F.
- b) A, B, C, F e G.
- c) B, C, D, E e F.
- d) B, C, D, E e G.

4. Um candidato partiu de Porto Alegre às 06h e chegou às 12h em Jaguarão para prestar o vestibular do IFSul. Viajou cerca de 387 km pela BR 116. Em um mapa, com a escala de 1:1.500.000, a distância gráfica entre as duas cidades citadas acima será de

- a) 258 cm.
- b) 25,8 cm.
- c) 2,58 cm.
- d) 27,8 cm.

5. O término da URSS (União das Repúblicas Socialistas e Soviéticas) representou o surgimento de 15 novos Estados soberanos. Sob a égide da Rússia, a maior parte das antigas repúblicas soviéticas formou a CEI (Comunidade dos Estados Independentes), uma organização internacional de cooperação política e econômica. Das quinze repúblicas que constituíam a URSS, três não pertencem a CEI, pois preferiram negociar sua adesão à União Europeia.

Quais são?

- a) Estônia, Letônia e Lituânia.
- b) Armênia, Geórgia e Ucrânia.
- c) Bielo-Rússia, Moldávia e Quirguistão.
- d) Azerbaijão, Cazaquistão e Uzbequistão.

6. Um geógrafo, ao passar pelas obras de duplicação da BR 116 nas proximidades da cidade de Cristal-RS, observa, em um talude de corte, a imagem ao lado:

Qual deverá ser a denominação que o geógrafo utilizará para definir esse elemento paisagístico?

- a) Inselbergues sedimentares.
- b) Matacões.
- c) Afloramentos sedimentares.
- d) Falhas.



Fonte: <http://www.cprm.gov.br> Acesso em: 25 out. 2014

7. Considerando a imagem ao lado e o período de Perigeu (proximidade da Lua em relação ao Planeta Terra), pergunta-se:

Conforme a figura, em que datas acontecem respectivamente os momentos de Perigeu?

- a) 02 de outubro e 17 de setembro.
- b) 17 de setembro e 02 de outubro.
- c) 10 de setembro e 24 de setembro.
- d) 24 de setembro e 10 de setembro.



8. Os grandes grupos de rochas que compõem a superfície terrestre são: as rochas magmáticas, as sedimentares e as metamórficas.

São exemplos de rochas metamórficas:

- a) xisto e lamito.
- b) basalto e micaxisto.
- c) gnaisse e calcário.
- d) granito e ardósia.

9. "A megacidade vai ocupar o centro da geografia do século XXI. No mundo já existem 25 cidades com população superior aos 10 milhões de pessoas, número que chegará a 40 em 2015 – todas com exceção de duas, no âmbito do Terceiro Mundo."

(KAPLAN, R. **A Vingança da Geografia**. Rio de Janeiro: Elsevier, 2013, p.123)

O conceito de megacidade adquire enorme importância nos estudos dos geógrafos e professores de geografia da atualidade.

Com base nisso, qual é a alternativa que descreve corretamente a origem do conceito de megacidade?

- a) O conceito de megacidade foi definido primeiramente pela ONU.
- b) O conceito de megacidade foi definido primeiramente pelo IBGE.
- c) O conceito de megacidade foi definido primeiramente pelo geógrafo Renato Ortiz.
- d) O conceito de megacidade foi definido primeiramente pelo geógrafo Yves Lacoste.

10. O planeta Terra é formado por processos internos e externos de grande magnitude. A(o) _____ é um fenômeno imperceptível aos olhos humanos, mas ocorre há milhões de anos e é responsável pela formação das cadeias de montanhas, como a do Himalaia; já a(o) _____ são os processos que resultam no movimento lento e generalizado da crosta terrestre, responsável por soerguimentos ou rebaixamentos amplos.

Quais são as palavras que completam correta e respectivamente as lacunas do texto?

- a) Fotogênese e Paleogênese
- b) Epirogênese e Orogênese
- c) Orogênese e Epirogênese
- d) Paleogênese e Epirogênese

11. Foi o conjunto de autores da chamada geografia tradicional que a caracterizou do período que se estende do século XIX até meados do século XX, sistematizando-a como ciência e institucionalizando-a enquanto disciplina.

(Adaptado de: CASTRO, I. E; GOMES, P. C. C; CORREA, R. L. **Geografia: Conceitos e Temas**. Rio de Janeiro: Bertrand, 2012, p. 17)

De acordo com a história do Pensamento Geográfico, associe a primeira coluna de acordo com a segunda, na ordem de cima para baixo, ligando os autores às suas principais ideias, respectivamente.

1ª Coluna

- (1) Ratzel
- (2) La Blache
- (3) Humboldt
- (4) Hartshorne

- () Espaço vital
- () Gênero de vida
- () Naturalismo dedutivo
- () Diferenciação de áreas
- () Empirismo racionalizado

2ª Coluna


Qual é a sequência correta?

- a) 1, 2, ____, 4 e 3.
- b) 1, 2, 3, ____ e 4.
- c) 4, 3, 2, ____ e 1.
- d) 4, 3, ____, 1 e 2.

12. Observe a figura ao lado que representa uma Seção Geológica do Rio Grande do Sul, aproximadamente de NW a SE:

Os números 1 e 2 representam, respectivamente:

- a) Depressão Periférica e Escudo Sul-rio-grandense.
- b) *Cuesta do Haedo* e Planalto Basáltico.
- c) Planalto Basáltico e Escudo Sul-rio-grandense.
- d) Escudo Sul-rio-grandense e Planalto Basáltico.



Fonte: <http://www.ufrgs.br/paleotocas/RioGrandedoSul.html>. Acesso em: 23 out. 2014

13. Segundo Thomas Hobbes, "a guerra consiste não só na batalha, ou no ato de lutar: mas num período de tempo em que a vontade de disputar pela batalha é suficientemente conhecida". Neste sentido, a Guerra Fria, foi um estado de beligerância latente entre EUA e URSS.

(Adaptado de: LUCCI, E. ; BRANCO, A. L.; MENDONÇA, C. **Território e Sociedade no Mundo Globalizado**. São Paulo: Saraiva, 2010, p.36)

Um momento marcante durante a Guerra Fria se deu a partir da criação do Pacto de Varsóvia, que representou

- a) um contraponto à formação da OTAN.
- b) uma meta econômica contrária ao capitalismo.
- c) um grupo paramilitar atuante no continente africano.
- d) uma forte campanha publicitária de apologia à URSS.

14. "(...) o território brasileiro tem incorporado muitas das características da chamada revolução agrícola, mas especialmente nas culturas de exportação, aquelas que consolidam a divisão territorial do trabalho mundial. Assim, esses produtos acabaram por invadir, com velocidade cada vez maior, áreas antes destinadas às produções domésticas. Houve uma desvalorização das culturas alimentares básicas e da tradição nacional (...), e isto se dá com a colaboração do crédito público, da informação, da propaganda e de novos consumos."

(SANTOS, M.; SILVEIRA, M. L. **O Brasil: Território e Sociedade no início do século XXI**, 2006, p. 120)

O texto de Santos, extraído de *O Brasil: Território e Sociedade no início do Século XXI*, denota uma questão que caracteriza o espaço agrário brasileiro.

Qual seria a questão indicada no texto?

- a) Os investimentos de capitais externos que financiam a agropecuária nacional.
- b) Os mecanismos de incorporação de mão de obra imigrante e assalariada no campo.
- c) Os antagonismos existentes entre as relações de produção e as formas de trabalho no campo.
- d) Os conflitos velados entre a agricultura de exportação e a agricultura para o mercado interno.

15. Leia o texto abaixo, extraído de ROSS, J. L. S. **Geografia do Brasil**. São Paulo: Edusp, 1996. p.48.

“A macroestrutura do subsolo do território brasileiro desempenha importante papel na configuração das grandes formas do relevo, apesar das prolongadas fases erosivas. Desse modo, pode-se dizer de forma simplificada que são três as grandes estruturas que definem os macrocompartimentos de relevo encontrados no Brasil: em plataformas ou crátons, cinturões orogênicos e grandes bacias sedimentares...”.

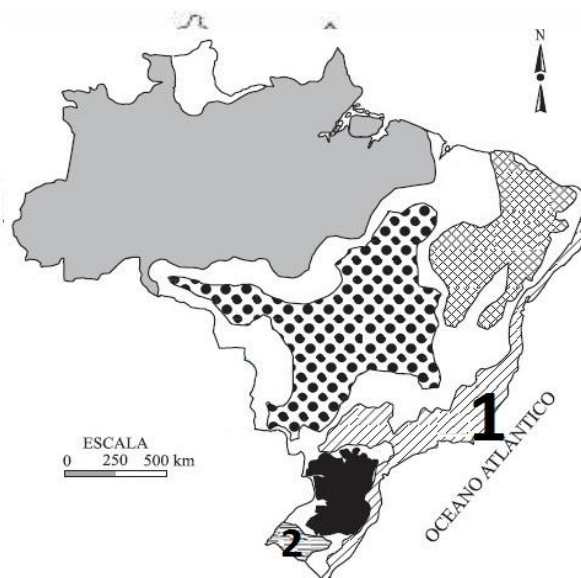
As regiões cratônicas têm como arcabouço geológico vastas extensões de escudos cristalinos. A relação entre o minério e a sua localização no território brasileiro está corretamente expressa em

	Minério	Localização geográfica
a)	ferro	Quadrilátero Ferrífero (Escudo sul-rio-grandense)
b)	ferro	Serra dos Carajás (Chapada do Guimarães)
c)	bauxita	Vale do Trombetas (Planalto da Borborema)
d)	manganês	Maciço do Urucum (Pantanal Mato-Grossense)

16.O geógrafo brasileiro Aziz Nacib Ab'Saber caracterizou seis grandes domínios morfoclimáticos, apresentados no mapa ao lado, cujas áreas estão relacionadas a regiões climatobotânicas, áreas geopedológicas, províncias fitogeográficas e regiões hidrológicas particularmente bem definidas.

Os números 1 e 2 correspondem respectivamente às seguintes características:

- a) 1- Domínio dos planaltos de araucárias, com predomínio de drenagens perenes e solos diversificados.
2- Domínio dos chapadões recobertos por cerrados e penetrados por florestas de galerias, composto por planaltos de estrutura complexa, capeados ou não por lateritas de cimeira.
- b) 1- Domínio das terras baixas florestadas com planícies de inundação labirínticas e/ou meândricas.
2- Domínio das depressões interplanálticas semiáridas, revestido por diferentes tipos de caatingas, apresentando fraca decomposição das rochas com frequentes afloramentos, chãos pedregosos e drenagens intermitentes.
- c) 1- Domínio das depressões interplanálticas semiáridas, revestido por diferentes tipos de caatingas, apresentando fraca decomposição das rochas com frequentes afloramentos, chãos pedregosos e drenagens intermitentes.
2- Domínio das pradarias mistas, coxilhas extensivas, grandes matas subtropicais, apresentando fraca decomposição das rochas e presença de banhados.
- d) 1- Domínio dos mares de morros florestados, apresentando fortíssima e generalizada decomposição de rochas, densas drenagens perenes, extensiva mamelonização.
2- Domínio das pradarias mistas, coxilhas extensivas, grandes matas subtropicais, apresentando fraca decomposição das rochas e presença de banhados.



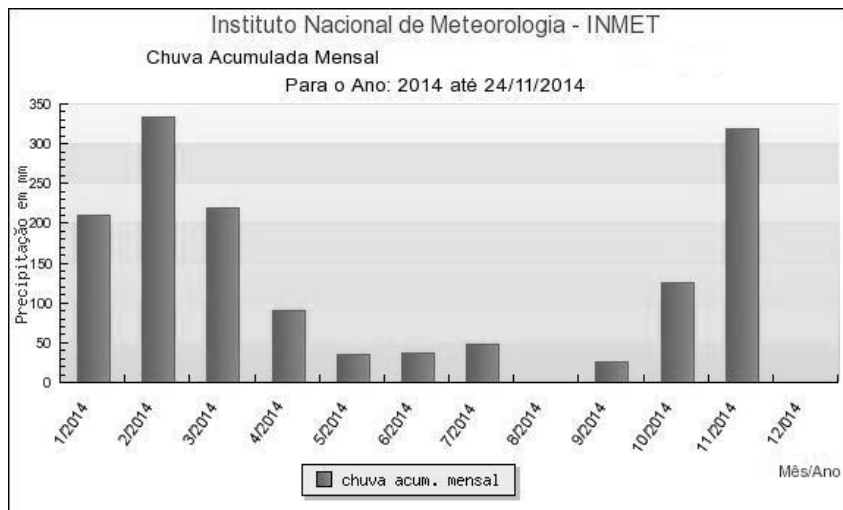
17.“No Japão, os principais parques industriais situam-se junto ao litoral do Pacífico, na costa leste. O intenso comércio externo japonês, que inclui volumosas exportações industriais (automóveis, eletroeletrônicos, equipamentos de telecomunicações) e importação de matérias-primas (minério de ferro, petróleo, carvão mineral), determinou a concentração litorânea de sua indústria.”

(LUCCI, E. ; BRANCO, A. L.; MENDONÇA, C. **Território e Sociedade no Mundo Globalizado**. São Paulo: Saraiva, 2010, p.256)

O processo fabril japonês ocorreu a partir de 1868, tendo em vista

- a) o término da Era Meiji.
- b) a proibição das Keiretsus.
- c) o surgimento dos Zaibatsus.
- d) a revitalização do Xogunato.

18. Observe o gráfico abaixo:



Fonte: http://www.inmet.gov.br/sonabra/pg_iframe.php?codEst=A901&mesAno=2014

Acesso em: 23 out. 2014

Observando o gráfico termopluiométrico, é possível inferir que, de acordo com a classificação climática proposta pelo IBGE (2009) apud MOREIRA, J. C.; DE SENE, E. **Geografia Geral e do Brasil – espaço geográfico e globalização**. São Paulo: Scipione, 2007, trata-se de um clima

- a) tropical úmido.
- b) tropical semiúmido.
- c) tropical de altitude.
- d) tropical semiárido.

19. "O desenvolvimento capitalista no Brasil tem imposto uma reordenação territorial no campo brasileiro. (...). Somada à da produção voltada para o mercado interno está a expansão das culturas de exportação, (...). Assim, combinando mercado interno e externo, o Estado atuou no sentido de incrementar a produção principalmente de grãos."

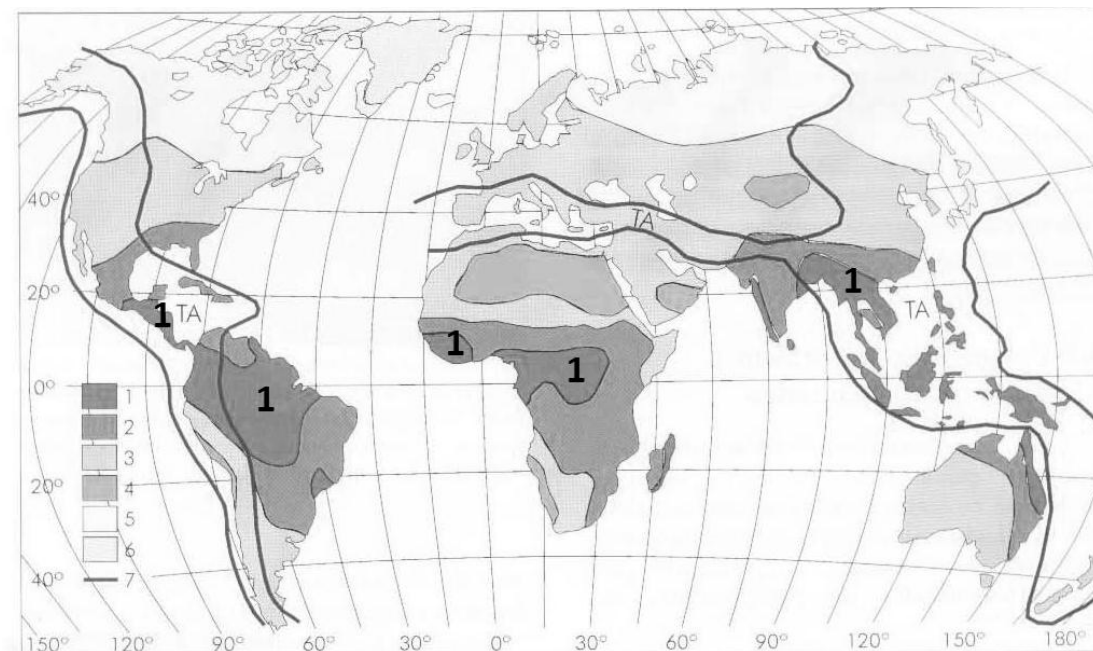
(OLIVEIRA, Ariovaldo Umbelino de. Agricultura Brasileira: Transformações Recentes. In: ROSS, J. L. S. (Org.). **Geografia do Brasil**. São Paulo: EDUSP, 2009. p. 516)

O texto de Ariovaldo Umbelino de Oliveira, em Jurandy Ross, Geografia do Brasil, aponta uma característica atual do espaço agrário brasileiro.

Qual seria a questão indicada no texto?

- a) O investimento do Estado na agricultura acabou por gerar, ainda que contraditoriamente, uma integração no território nacional, ligando regiões antes consideradas inexploradas economicamente.
- b) O financiamento da agricultura por parte do Estado, somado ao perfil socioeconômico brasileiro, propiciou o alargamento das relações de produção e de capital social a serem investidos no campo.
- c) O caráter industrial da agricultura capitalista do país possibilitou a produção, em grande escala, das culturas cuja obtenção de preços altos no mercado garante lucro certo nesses empreendimentos.
- d) O acentuamento das relações capitalistas inseriram, na agricultura moderna, processos e dinâmicas próprios ao modelo de estrutura produtiva, de desenvolvimento endógeno, característicos aos de qualquer ramo do segmento industrial.

20. Observe o planisfério.



(Adaptado: TEIXEIRA, W. et al. **Decifrando a Terra**. São Paulo: Oficina de textos (USP), 2003, p.149)

Com relação aos processos de alteração da superfície da Terra, as zonas identificadas com o número um (1) correspondem à Zona de

- a) alitização.
- b) monossialitização.
- c) acidólise total.
- d) bissialitização.

21. “Quase sempre a Geografia trabalha os fenômenos populacionais de forma abstrata, na qual os números substituem os indivíduos e os comportamentos humanos são relegados a segundo plano. (...) Dentro de uma perspectiva mais crítica, a abordagem numérica revela-se insuficiente. Uma abordagem crítica não deve negar as estruturas apresentadas, (...) mas precisa inserir esses números numa abordagem mais abrangente, com vistas à compreensão das condições existenciais das pessoas.”

(SCARLATO, F. C. População e Urbanização Brasileira. In: ROSS, J. L. S. **Geografia do Brasil**. São Paulo: EDUSP, 2009, p.384)

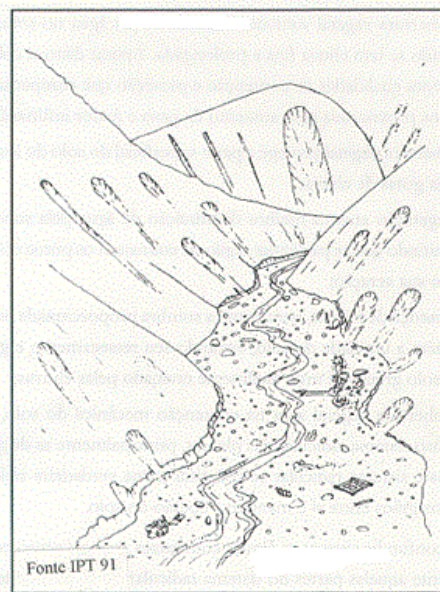
Sobre a abordagem crítica no conteúdo programático de Geografia da população, de acordo com o autor citado, é correto afirmar que a postura crítica

- a) permite conhecer as condições concretas da realidade a partir dos dados numéricos e estatísticos, analisados criticamente.
- b) procura entender a maneira como as pessoas concebem e percebem sua condição material e social no interior da sociedade.
- c) procura desvelar a realidade do espaço geográfico para fins de o Estado elaborar políticas públicas mais eficazes do ponto de vista social.
- d) busca a compreensão dos fenômenos políticos, econômicos e sociais visando mudanças na distribuição de renda e riquezas na sociedade.

22. Os movimentos de massa ocorrem basicamente quando as forças de tração, dadas pela gravidade atuando na declividade do terreno, superam as forças de resistências, principalmente as forças de atrito (Montgomery, 1992).

Dentre os principais movimentos de massa existentes no Brasil, aquele a que se refere a ilustração acima é

- a) rastejos.
- b) corridas de massa.
- c) quedas de blocos.
- d) escorregamentos.



23. “Se nossas sociedades estão desamparadas, é porque a Geografia não foi ensinada como deveria ter sido: não é a ela que cabe fazer todos compreenderem como se construiu a Terra dos homens e em quais condições ela pode continuar a sê-lo?”

(CLAVAL, P. Terra dos homens: a geografia. In: JOIA, A. L.; GOETTEMES, A. A. **Geografia: leituras e interação** (Manual do Professor). São Paulo: Leya, 2013, p. 13)

O questionamento de Paul Claval, aponta um importante desafio ao ensinar geografia na atualidade: como ensinar essa disciplina, de forma que as sociedades não fiquem desamparadas.

De acordo com o autor, é correto afirmar que

- a) existem muitas formas de ensinar; a questão não está no método e, sim, nas abordagens pedagógicas e políticas frente aos conteúdos trabalhados, os quais devem ser fundamentados por teóricos críticos e reflexivos.
- b) existe uma única forma de ensinar, que é a forma dialógica, pelo menos é a forma mais correta, tendo em vista o novo papel a ser desenvolvido pela escola na sociedade atual, que exige seres humanos pensantes e conscientes.
- c) existem muitas formas de ensinar; a questão está na metodologia aplicada, pois um conteúdo trabalhado de formas diversas, permeado por uma análise questionadora, elucidada e instiga o educando a pensar e a refletir sobre o mundo em que vive.
- d) existe uma única forma de ensinar, que é a forma crítica, pois as outras formas, ditas tradicionais, são ineficazes na realidade da escola atual, que necessita ser mais dinâmica e acompanhar o ritmo ditado pela complexidade do mundo em que vivemos.

24. O Brasil possui uma diversidade de fauna e flora surpreendente. Isso acontece devido ao seu imenso território, associado às suas condições climáticas.

Qual das alternativas abaixo corresponde às características do Bioma Pampa?

- a) É o bioma nacional mais rico em biodiversidade.
- b) As paisagens naturais se caracterizam pelo predomínio dos campos nativos, mas há também a presença de matas ciliares, matas de encosta.
- c) Possui a maior floresta da zona intertropical do globo. Atualmente enfrenta problemas devido ao desmatamento intensivo.
- d) É uma formação com árvores, arbustos e campos. Ocorre, nesse bioma, o aparecimento de árvores com galhos retorcidos e casca grossa.

25. Considere o seguinte fragmento:

“E a batalha apenas começou
Há muitos que perderam, mas me diga: Quem ganhou?
As trincheiras cavadas em nossos corações
E mães, filhos, irmãos, irmãs dilacerados

Domingo, sangrento domingo

Por quanto tempo, por quanto tempo teremos que cantar esta canção?
Por quanto tempo, por quanto tempo?
Hoje à noite
Nós podemos ser como um esta noite

Domingo, sangrento domingo”

O trecho da música Sunday, Bloody Sunday, da Banda U2, descreve o episódio denominado Domingo Sangrento, ocorrido em 1972, em que

- a) bascos declararam independência em relação à Espanha.
- b) sérvios reivindicaram a anexação da Bósnia pela Herzegovina.
- c) estudantes chineses protestaram em plena Praça da Paz Celestial.
- d) militares britânicos mataram manifestantes por direitos civis na Ulster.

26. “Uma assertiva importante das teorias sobre o pós-industrialismo é que as pessoas, além de estarem envolvidas em diferentes atividades, também ocupam novos cargos na estrutura ocupacional. (...) previu-se que, conforme entrássemos na chamada sociedade informacional, observaríamos a crescente importância dos (...) profissionais especializados, uma proporção decrescente dos cargos de artífices e operadores (...).”

(CASTELLS, M. **A Sociedade em Rede**. São Paulo: Paz e Terra, 1999, p.280)

Sobre a nova estrutura ocupacional da população e dos setores produtivos, de acordo com Castells, a versão “esquerdista” do pós-industrialismo aponta a importância

- a) cada vez menor de profissões de mão de obra semiqualficada do setor de serviços, em contraponto ao crescimento de emprego para profissionais especializados.
- b) cada vez maior das profissões de mão de obra semiqualficada do setor de serviços, como contraponto ao crescimento do emprego para profissionais especializados.
- c) cada vez menor de profissões de mão de obra qualificada do setor de serviços, como contraponto ao crescimento de emprego para profissionais especializados.
- d) cada vez maior das profissões de mão de obra qualificada do setor de serviços, em contraponto à diminuição de emprego para profissionais especializados.

27.A respeito dos tipos de indústria, são apresentadas as seguintes informações:

- I. A indústria de base é caracterizada pelo trabalho que realiza sobre a matéria-prima, ou seja, a matéria-prima é processada para o uso em outra indústria.
- II. A indústria de bens de capital transforma a matéria-prima já beneficiada em bens intermediários e estes serão fundamentais para a indústria de bens de consumo.
- III. A indústria de bens de consumo produz os bens que serão disponibilizados ao mercado consumidor. Atualmente, está subdividida em: bens de consumo duráveis, semiduráveis e não duráveis.

Com base nos conceitos apresentados, a respeito das características das indústrias, qual alternativa apresenta representante de cada tipo de indústria, respectivamente?

- a) Cimento, ferramentas e celulose.
- b) Siderurgia, vestuário e carboquímica.
- c) Metalurgia, medicamentos e máquinas.
- d) Petroquímica, equipamentos e automóveis.

28.“É evidente que esse novo contexto demanda uma profunda transformação do ponto de vista intelectual, científico e pedagógico. Intelectualmente, é necessário aprender a pensar o mundo em sua mobilidade, interdependência e integração, o que, talvez, seja contrário à identidade própria de uma classe política alimentada de deliberação nacional e de sensibilidade para com os interesses imediatos.”

(BERTRAND, Badie In: DURAND, M; COPINSCHI, P.; MARTIN, B.; PLACIDI, D. **Atlas da Mundialização: Compreender o espaço mundial contemporâneo.** São Paulo: Saraiva, 2009, p.7)

De acordo com Bertrand Badie, para compreender o espaço mundial contemporâneo e sua organização geopolítica e territorial, afirma-se:

- a) Socialmente, há uma demanda por distribuição de renda e de riquezas, mas, principalmente, por conceitos e por alfabetização política e geográfica, a fim de respaldar as análises a serem tecidas por cada cidadão do mundo.
- b) Pedagogicamente, convém propor uma nova oferta que ultrapasse os limites impostos pela esfera econômica, buscando inserir cada vez mais a integração de conceitos e contextualizá-los na sua devida escala espacial e temporal.
- c) Cientificamente, deve-se aprender a representar essa fluidez, mas também a conceitualizá-la, a sair das configurações clássicas do inimigo, da fronteira e das identidades exclusivas; é necessário enxergar o social além do político.
- d) Economicamente, argumenta-se que a questão da identidade agrega valor às culturas locais e valoriza o social, sendo que “o local é a sua maneira o mundo”, portanto, valorizar as culturas é necessário para a integração e o entendimento dos espaços.

29. "A população mundial encontra-se desigualmente distribuída. Espaços vazios situam-se ao lado de espaços extremamente densos, e as projeções apontam para o aprofundamento dessas diferenças. Embora as noções de super e subpovoamento sejam relativas ao tipo de desenvolvimento das sociedades, entre os dez países com mais de 100 milhões de habitantes, no início do século XXI, sete situam-se no Sul."

(DURAND, M; COPINSCHI, P.; MARTIN, B.; PLACIDI, D. **Atlas da Mundialização**: Compreender o espaço mundial contemporâneo. São Paulo: Saraiva, 2009, p. 22)

De acordo com o autor, sobre superpovoamento e subpovoamento, afirma-se:

- a) Com exceção da Ásia do Sul e da Europa, o povoamento do planeta é periférico, frequentemente costeiro e cada vez mais urbano, sendo que a Ásia sozinha representa 60% da população mundial.
- b) A importância das grandes cidades e do superpovoamento é gerada pela ampla oferta de serviços oferecidos, caracterizando as megacidades e cidades globais, sendo estas localizadas principalmente na Ásia.
- c) São as populações dos Estados mais pobres que irão crescer mais rapidamente, no entanto, cada vez mais as pessoas migram para os países desenvolvidos industrializados em busca de melhores condições de vida.
- d) Com a presença de inúmeros e grandes centros urbanos, cada vez mais observa-se o crescimento das megacidades como polos de atração populacional, sendo que estas oferecem uma grande quantidade de serviços.

30. "Nesses espaços (...), alvo de freqüentes transformações, uma ordem espacial é permanentemente recriada, onde os objetos se adaptam aos reclamos externos e, ao mesmo tempo, encontram, a cada momento, uma lógica interna própria, um sentido que é seu próprio, localmente construído."

(SANTOS, M.A **Natureza do Espaço**. São Paulo: EDUSP, 2009, p.334)

Ao recorte territorial, descrito no texto acima, SANTOS denomina de

- a) perversidade.
- b) verticalidade.
- c) horizontalidade.
- d) homogeneidade.

31. "A ordem global busca impor, a todos os lugares, uma única racionalidade. E os lugares respondem ao Mundo segundo os diversos modos de sua própria racionalidade. A ordem global serve-se de uma população esparsa de objetos regidos por essa lei única que os constitui em sistema. A ordem local é associada a uma população contígua de objetos, reunidos pelo território e como território, regidos pela interação."

(SANTOS, M.A **Natureza do Espaço**. São Paulo: EDUSP, 2009, p.338)

De acordo com SANTOS, em A Natureza do Espaço, p. 338, o espaço é constituído por um sistema de objetos e ações e concebe a realidade local e global de que forma?

- a) Cada lugar é, ao mesmo tempo, objeto de uma razão global e de uma razão local, convivendo dialeticamente.
- b) A ordem global e a ordem local constituem duas situações semelhantes, tendo em vista que em uma se verifica os aspectos da outra.
- c) Cada lugar é, ao mesmo tempo, território e lugar porque reúne, numa mesma lógica interna, os elementos: homens, empresas, instituições e formas geográficas.
- d) A ordem global desterritorializa, mas se valoriza da ação e da sede da ação e seu espaço é formado por pontos que dependem de fatores externos e internos ao local.

32. “A partir de 1985, o governo de Mikhail Gorbachev promoveu uma grande alteração na estrutura política e socioeconômica da União Soviética. Implantou um dispositivo de reformulação da economia que tinha como objetivo o aprimoramento de todo o sistema de produção e de propriedade, além da introdução de mecanismos de mercado.”

Adaptado de: (LUCCI, E. ; BRANCO, A. L.; MENDONÇA, C. **Território e Sociedade no Mundo Globalizado**. São Paulo: Saraiva, 2010, p.52)

A qual dispositivo o texto faz referência?

- a) Glasnost.
- b) Perestroika.
- c) Kominform.
- d) Brettow-Woods.


33. Observe a figura ao lado:

Sobre o Sistema de Informação Geográfica, afirmar-se que:

- I. Constitui-se em um instrumento ineficiente para o planejamento urbano e rural.
- II. Correlaciona diversos dados espaciais e não espaciais de acordo com determinada finalidade.
- III. Elabora como produto final cartogramas diversos, idênticos ao espaço representado.

Está(ão) correta(s) a(s) afirmativa(s)

- a) I, II e III.
- b) I e II, apenas.
- c) I e III, apenas.
- d) II, apenas.



Fonte: <http://www.portalvr.com/geoprocessamento/>
Acesso em: 27 out. 2014

34. A figura abaixo corresponde a um tipo de canal fluvial.



Fonte: TEIXEIRA, W. et al. **Decifrando a Terra**. São Paulo: Oficina de textos (USP), 2003.

Qual o tipo de canal fluvial destacado na figura?

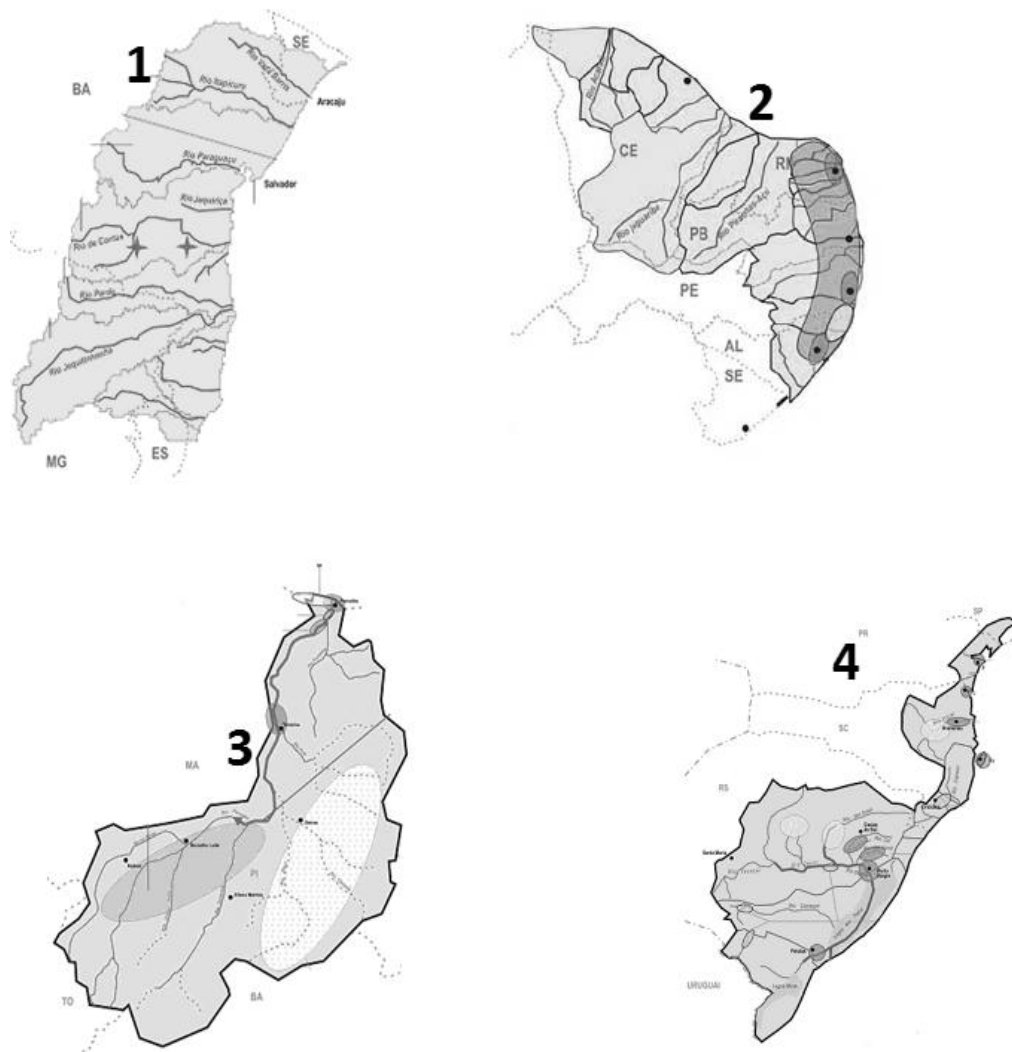
- a) Anastomosado.
- b) Retilíneo.
- c) Meandrante.
- d) Entrelaçado.

35. De acordo com a Teoria da Tectônica de Placas, a litosfera não é uma capa contínua, mas está fragmentada em um mosaico de cerca de uma dúzia de grandes placas rígidas (PRESS, F.; SIEVER, R.; GROTZINGER, J.; JORDAN, T. **Para Entender a Terra**. Porto Alegre: Bookman, 2006).

O limite onde as placas deslizam horizontalmente uma em relação a outra e a área da placa permanece constante é definido como limites

- a) convergentes.
- b) transformantes.
- c) divergentes.
- d) oblíquos.

36. Observe a imagem a seguir:



A imagem acima representa algumas importantes Bacias Hidrográficas do território brasileiro.

As bacias indicadas com o número 1 e 2 são, respectivamente,

- a) Bacia Atlântica Leste e Bacia Atlântica Nordeste Ocidental.
- b) Bacia Atlântica Sul e Bacia Atlântica Leste.
- c) Bacia Atlântica Nordeste Oriental e Bacia Atlântica Sudeste.
- d) Bacia Atlântica Leste e Bacia Atlântica Nordeste Oriental.

37. Os movimentos migratórios sempre estiveram presentes na história da humanidade. Sobre esse assunto, leia as afirmativas abaixo:

- I. Os movimentos migratórios podem ser forçados ou espontâneos e um exemplo deste último tipo de migração é a dos refugiados curdos que fugiram para a Turquia em função das ações do ISIS (sigla que, no original, quer dizer Estado Islâmico no Iraque e na Síria).
- II. O Brasil, desde a eclosão da crise econômica, que se iniciou em 2008, passou a receber imigrantes de países latino-americanos, com destaque para a Bolívia, o Peru e o Paraguai.
- III. O fator trabalho é uma das razões centrais para os movimentos migratórios. É motivo, por exemplo, para a imigração de brasileiros para os EUA.

Está(ão) correta(s) a(s) afirmativa(s)

- a) I, II e III.
- b) I e III, apenas.
- c) II, apenas.
- d) III, apenas.

38. Com relação à drenagem, os rios, em uma bacia hidrográfica, podem ser classificados em função de sua gênese.

Qual é a alternativa **INCORRETA** em relação a essa classificação?

- a) Consequentes: são aqueles cujo curso foi determinado pela declividade da superfície terrestre, em geral coincidindo com a direção da inclinação principal das camadas.
- b) Subsequentes: são aqueles cuja direção de fluxo é controlada pela estrutura rochosa, acompanhando sempre uma zona de fraqueza.
- c) Obsequentes: são aqueles que correm em sentido inverso à inclinação das camadas ou à inclinação original dos rios consequentes. Em geral, descem das escarpas até o rio subsequente.
- d) Resequentes: são aqueles que fluem na direção contrária dos rios consequentes, mas nascem em nível mais baixo. Em geral, nascem no reverso de escarpa e fluem até desembocar em um subsequente.

39. As correntes marítimas são grandes massas de água salgada que correm na superfície dos oceanos, seguindo cursos irregulares. A corrente que transporta águas quentes e salinas para o nordeste do Atlântico, cujo calor liberado contribui significativamente para as características do clima da Europa Ocidental é

- a) corrente Quente do Brasil.
- b) corrente KuroSivo.
- c) corrente "El Niño Atlântico".
- d) corrente do Golfo.

40. A questão ambiental é uma das grandes preocupações da sociedade. Assim, a utilização de fontes de energia renováveis passou a ser uma alternativa sustentável para superar as contradições ecológicas do modelo capitalista de produção.

As fontes renováveis que mais contribuem para o percentual verificado na matriz energética brasileira são

- a) solar e eólica.
- b) biomassa e solar.
- c) eólica e hidráulica.
- d) hidráulica e biomassa.